



UNIDAD 8 RELOJES DEL MUNDO

Trabajo para el viernes 17/04/2020

NOMBRE: _____

El Tiempo

Yo llegué a las 8:25

Yo llegué 5 minutos antes que Óscar

Yo llegué 12 minutos después que Alicia.

Óscar

Alicia

Felipe



¿Quién llegó más temprano?

- Alicia llegó 05 minutos antes que Óscar: $8:25 - 05 = 8:20$
Alicia llegó a las 8 horas 20 minutos.
- Felipe llegó 12 minutos después que Alicia: $8:20 + 12 = 8:32$
Felipe llegó a las 8 horas 32 minutos.

_____ llegó más temprano.

Ahora hazlo tú:


- Dibuja las agujas de cada reloj y escribe las respuestas:
 - La película empezó a las 8 p.m. y terminó a las 10 p.m. ¿Cuánto duró la película?
 - La clase empezó a las 9 horas y media y terminó a las 10 horas y 15 minutos. ¿Cuánto tiempo duró la clase?








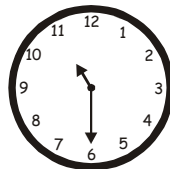


La película duró _____ horas

La clase duró _____ minutos

c) Dibuja las agujas que corresponden en cada reloj.



2. Escribe la hora que indica cada reloj.


 :

 :

 :

 :

 :

 :

 :

 :

3. Completa: ¿cuánto tiempo OCUPAS para...?

Actividades	Tiempo
<i>dormir</i>	_____
<i>almorzar</i>	_____
<i>bañarte</i>	_____
<i>llegar al colegio</i>	_____
<i>hacer tus tareas</i>	_____
<i>ver televisión</i>	_____
<i>arreglar tu dormitorio</i>	_____
<i>escuchar música</i>	_____



Cuando termine el confinamiento del Covid 19, me iré a Salou el segundo sábado de julio y volveré el primer jueves de agosto.

4. Observa y responde:

JULIO						
L	M	M	J	V	S	D
1	2	3	4	5	6	7
8	9	10	11	12	13	14
15	16	17	18	19	20	21
22	23	24	25	26	27	28
29	30	31				

¿Qué día viajará? _____

¿Qué día volverá? _____

¿Cuántos días estará en Salou?

AGOSTO						
L	M	M	J	V	S	D
		1	2	3	4	5
6	7	8	9	10	11	12
13	14	15	16	17	18	19
20	21	22	23	24	25	26
27	28	29	30			




Si hubiera regresado de Salou 2 días después del segundo viernes de agosto, ¿cuántos días más hubiese tardado?

5. Resuelve:

a) Roberto salió a jugar a las 6:05 de la mañana. Claudia salió 25 minutos después y Jorge 20 minutos antes que Roberto. ¿A qué hora salieron Jorge y Claudia a jugar?

b) En una tienda de telas. El lunes se vendieron 42 metros; el martes 4 metros menos que el lunes y el miércoles la mitad de lo que se vendió el lunes. ¿Cuánto vendieron en total los tres días?

6. Escribe la hora que marca cada reloj.


 :

 :

 :

7. Relaciona:

Mes que puede tener 28 ó 29 días

Número de minutos en un cuarto de hora.

Es el cuarto mes con 31 días.

Número de minutos en media hora.

Unidad de tiempo de 365 días.

15 minutos

1 año.

30 minutos.

Julio.

Febrero.

8. Ana se va a Benasque el segundo domingo de junio y volverá el segundo lunes de julio.

JUNIO						
D	L	M	M	J	V	S
1	2	3	4	5	6	7
8	9	10	11	12	13	14
15	16	17	18	19	20	21
22	23	24	25	26	27	28

a) ¿Qué día viaja Ana?

JULIO						
D	L	M	M	J	V	S
29	30	1	2	3	4	5
6	7	8	9	10	11	12
13	14	15	16	17	18	19
20	21	22	23	24	25	26
27	28	29	30	31		

b) ¿Qué día volverá?

9. Resuelve.

a) 2 horas = _____ minutos.

b) 49 días = _____ semanas.

c) 180 minutos = _____ horas.

d) 4 minutos = _____ segundos.

b) 2 años no bisiestos = _____ días

c) Media hora = _____ segundos.